

تقفيلات المنصف كمي

(الإصدار الثامن)

(يشمل كل الإصدارات السابقة ويعني عنها)

لا تخش من التنازل عم هو جيد للحصول على ما هو أروع , وبدلاً من أن تلعن الظلام أوقد شمعة .

قف على ناصية الحلم وقاتل

- ١- يحتوي أهم المسائل التي تم تقفيلاها بحلول أخرى عند قياس .
- ٢- والمسائل التي تم تعديلها
- ٣- والمسائل التي ممكن أن يخطئ فيها الطلاب فبعر فهم تقفيلاها

تصميم : د. عبد الرحمن أحمد صلاح

مراجعة الأستاذ / محمود منصف

نسألكم الدعاء ♥

تقديلات المنصف كمي (الإصدار الثامن)

١- قارن بين :	
صفر	- س (- س)
ب (القيمة الثانية أكبر	أ (القيمة الاولى أكبر
د (المعطيات غير كافية	ج) القيمتان متساويتان
(د) السؤال به انحراف متقفل أ و د وطالما د الحل الصحيح علميا وكمان متقفل نحل د	

٢- قارن بين :	
صفر	- (- س)
ب (القيمة الثانية أكبر	أ (القيمة الاولى أكبر
د (المعطيات غير كافية	ج) القيمتان متساويتان
(د)	

٣- إذا كان $s = -6$ قارن بين :	
$\frac{1}{8}$	س
ب (القيمة الثانية أكبر	أ (القيمة الاولى أكبر
د (المعطيات غير كافية	ج) القيمتان متساويتان
(أ) المفروض الحل د لكنه متقفل بالخطأ (أ)	

تقفيلات المنصف كمي (الإصدار الثامن)

٤- عدد اذا ربعته وأضفت له مثليه كان الناتج = ٢٤

ب (٤ -)

أ (٤)

د (٦)

ج (٦ -)

أ وج اجابات صحيحة وتم تقفيله (أ)

٥- ما أقرب عدد لـ ٥,٧٦٥٤

ب (٥,٧٦٦)

أ (٥,٧٦٥)

د (٥,٨)

ج (٥,٧٧)

كان متقفل د بالخطأ وحاليا
متقفل بالاجابة الصحيحة (أ)

٦- قارن بين :

١٠٢٠°

مجموع زوايا الثماني

ب (القيمة الثانية أكبر)

أ (القيمة الاولى أكبر)

د (المعطيات غير كافية)

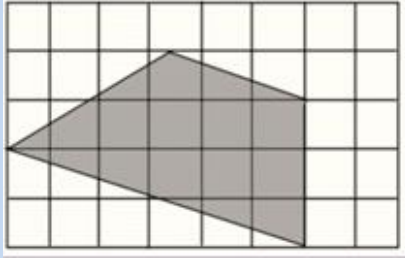
ج (القيمتان متساويتان)

(أ)

المفروض الحل الصحيح د لكن متقفل أ

تقفيلات المنصف كمي (الإصدار الثامن)

٧- اذا كان		٢ س-١ × ٤ س+٢
٢ ص =		٨ س
١ (أ)	٣ (ب)	
١- (ج)	٣- (د)	
<p>(ب)</p> <p>المفروض الاجابة الصحيحة ٤ ومش موجودة ومتقفل ب تم تعديل السؤال حاليا في الطيور والاكسجين الي ٢ ص بدلا من ٢ ص وبالتالي الإجابة ٣ صحيحة</p>		

		٨- اوجد مساحة المظل
١٢ (أ)	١٣ (ب)	
١٤ (ج)	١٥ (د)	
<p>(د)</p> <p>المفروض الاجابة الصحيحة ١٣ ومتقفل ١٥</p>		

تقفيلات المنصف كمي (الإصدار الثامن)

٩- دائرة نصف قطرها نق قسمت الى ٩ أجزاء احسب مساحة جزأين	
(أ) $\frac{٢ \text{ طنق}^٢}{٩}$	(ب) $\frac{٢ \text{ طنق}^٢}{٢}$
(ج) $\frac{٩ \text{ طنق}^٢}{٢}$	(د) $\frac{٩ \text{ طنق}^٢}{٢}$
كان متقفل $\frac{٢ \text{ طنق}^٢}{٢}$ وتم تصحيح الاختيارات واليا متقفل بالأجابة صحيحة (أ)	

سبحان الله

الحمد لله

لا اله الا الله

الله أكبر

تقفيلات المنصف كمي (الإصدار الثامن)

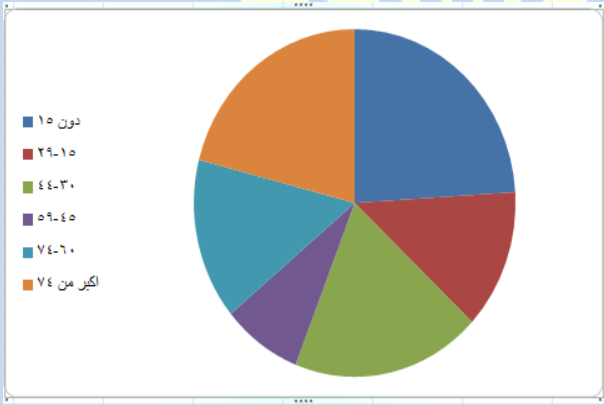
١٠- $0,1 \times 0,2 \times 0,3 \times 0,3 = 0,0012$

أ) $0,0012$	ب) $0,012$
ج) $0,00012$	د) $0,12$

(أ)
 الإجابة الصحيحة ٠,٠٠١٢ لم ترد في الاختيارات
 السؤال اتصحح الآن
 $0,1 \times 0,2 \times 0,2 \times 0,3 = 0,0012$

واجابته ٠,٠٠١٢

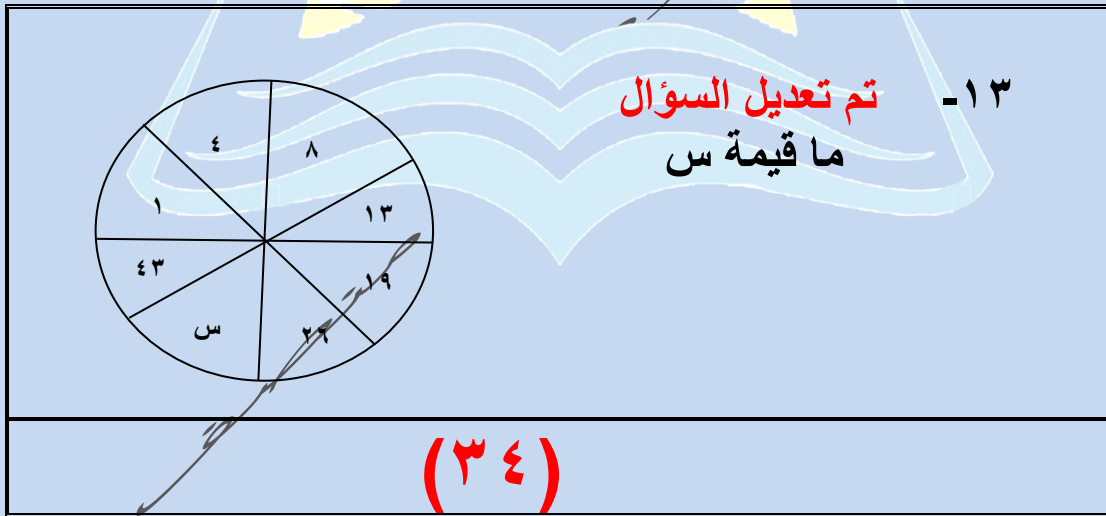
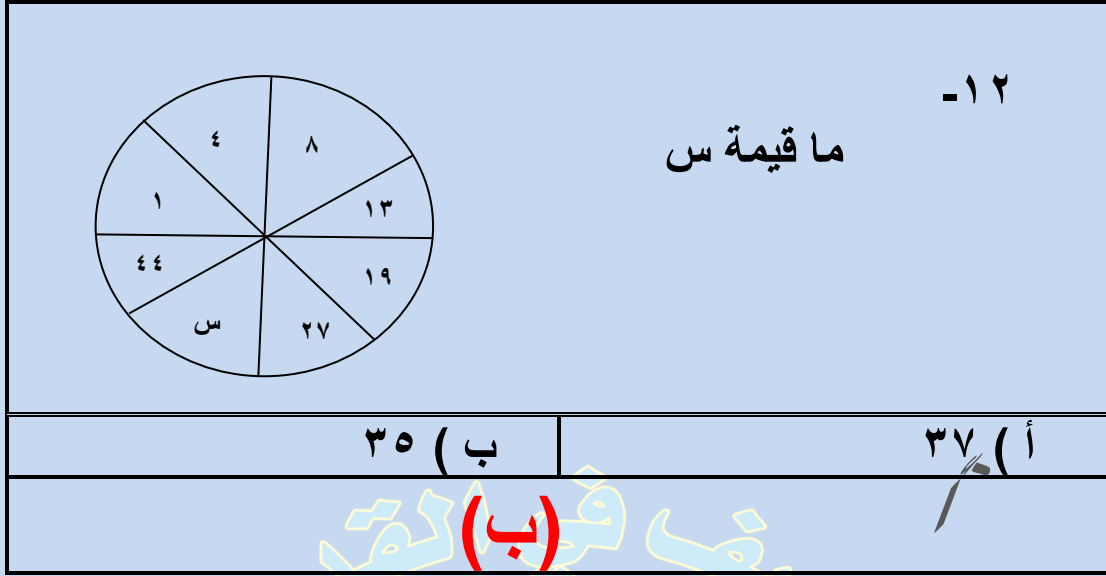
١١- يتأثر عدد السكان بـ



أ) المواليد والوفيات والسن	ب) المواليد والوفيات
ج) الوفيات والشباب	د) المواليد والشباب

(أ)
 رغم ان الاجابة الصحيحة المفروض ب لكن متقفل أ

تقفيلات المنصف كمي (الاصدار الثامن)



تقفيلات المنصف كمي (الإصدار الثامن)

١٤ - إذا كانت الساعة بتوقيت المدينة (أ) ١٢ ظهرا فإن التوقيت في المدينة (ب) ١٠ صباحا , فإذا اقلعت طائرة الساعة ٧ صباحا بتوقيت (أ) ووصلت الساعة ١ ظهرا بتوقيت (ب) , فكم استغرقت الرحلة بالساعات ؟

(ب) ٨

(أ) ٣

(د) ٥

(ج) ٧

(ب)

كانت مش موجودة ٨ في الاختيارات وتم تعديل السؤال وموجودة حاليا ٨

١٥ - غرفة مستطيلة ابعادها ٩ , ٥ وتم فرشها بسجادة مربعة طول ضلعها ٦ فما مساحة الجزء المتبقي ؟

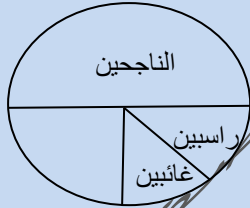
(ب) ١٥

(أ) ٩

(د) ٢٠

(ج) ١٤

(ب)



١٦ - إذا كان عدد الطلاب ٤٠ كم عدد الناجحين ؟

(ب) ٣٠

(أ) ١٨

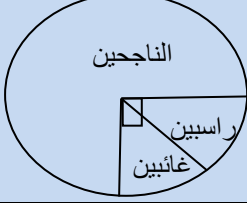
(د) ٣٦

(ج) ٢٢

(د)

الإجابة ٢٠ غير موجودة في الاختيارات

تقديرات المنصف كمي (الإصدار الثامن)

 <p>الناجحين راسبين فاسدين</p>		تم تعديل السؤال ١٧- إذا كان عدد الطلاب ٤٠ ما نسبة الفاسدين إذا كانت نسبة الراسبين ١٠٪؟	
ب) ١٥٪		أ) ١٠٪	
د) ٢٠٪		ج) ٢٥٪	
(ب)			

 <p>الناجحين راسبين فاسدين</p>		تم تعديل السؤال ١٨- إذا كان عدد الطلاب ٤٠ كم عدد الناجحين	
ب) ٢٠		أ) ١٠	
د) ٤٠		ج) ٣٠	
(ج)			

تقديلات المنصف كمي (الإصدار الثامن)

١٩- (٤ س ٤ ١ ٣ ٦ ٨ ٧) ما الرقم الذي يوضع مكان
س لكي لا يقبل العدد القسمة على ٤؟

٢ (ب)

١ (أ)

٤ (د)

٥ (ج)

(أ)

الاختيارين أ وج صحيحين ومتقفل أ
حاليا اتصحح واجابة واحدة فقط الصحيحة موجودة

٢٠- (١٠ س ٣ ٤) يقبل القسمة على ٥, ٣, ٢ اذا كانت
س تساوي؟

٢ (ب)

١ (أ)

٣ (د)

٤ (ج)

(أ)

الاختيارين أ وج صحيحين ومتقفل أ

٢١- اذا كانت نسبة الطلاب المتفوقين ١:٤, فما نسبتهم
المئوية؟

٣٠% (ب)

٢٠% (أ)

٤٠% (د)

٦٠% (ج)

(أ)

المفروض ٢٥% لكن متقفل أ

تقديرات المنصف كمي (الإصدار الثامن)

٢٢- إذا كانت نسبة الطلاب الحاصلين على ممتاز ٢:٦ ،
فما نسبتهم المئوية ؟

ب (٣٠٪)

أ (٢٥٪)

د (٤٠٪)

ج (٦٠٪)

(أ)

المفروض ٣,٣٪ لكن متقفل أ

٢٣- مع خالد ٩ ورقات من فئة ١٠ ريال و ٥ ريال فإذا كان مجموع ما
يملك ٧٠ ريال , أوجد عدد ورقات فئة ال ٩ ريال ؟ (جت كذا نصا)

أ (٤)

أ (٣)

ج (٧)

ج (٥)

(ب)

يتم حلها على أساس أوجد عدد ورقات فئة ال ٥ ريال
تم تصحيح السؤال حالياً

تقنيات المنصف كمي (الإصدار الثامن)

	<p>٢٤ - الشكل المجاور مربع قارن بين</p>
<p>٥</p>	<p>مساحة المظلل</p>
<p>١٦</p>	<p>أ (القيمة الاولى أكبر</p>
<p>ب (القيمة الثانية أكبر</p>	<p>ج) القيمتان متساويتان</p>
<p>د (المعطيات غير كافية</p>	<p>(ب)</p>
<p>الحل الصحيح د لانه لم يذكر اي طول نحسب به المساحة</p>	

	<p>٢٥ - بالنظر للشكل المجاور قارن بين</p>
<p>ربع مساحة الشكل</p>	<p>مساحة المظلل</p>
<p>ب (القيمة الثانية أكبر</p>	<p>أ (القيمة الاولى أكبر</p>
<p>د (المعطيات غير كافية</p>	<p>ج) القيمتان متساويتان</p>
<p>(د)</p>	
<p>لا تاتي حاليا</p>	

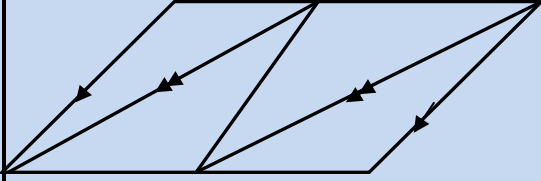
تقديلات المنصف كمي (الإصدار الثامن)

<p>٢٦- الشكل المجاور مربع قارن بين</p>	
$\frac{1}{16}$	نسبة المظل
ب (القيمة الثانية أكبر	أ (القيمة الاولى أكبر
د (المعطيات غير كافية	ج (القيمتان متساويتان
<p>(ج)</p>	

<p>٢٧- عند وضع اشارة عند كل ربع سم من المسطرة التي طولها ١٢ سم فما عدد الاشارات ؟</p>	
أ (٤٩	أ (٤٧
ج (٤٦	ج (٤٨
<p>(ج)</p> <p>لو قال وضعنا اشارات من بدايتها تكون الاجابة ب</p>	

تقفيلات المنصف كمي (الإصدار الثامن)

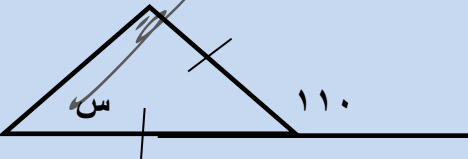
٢٨- كم عدد متوازيات الاضلاع



أ) ٢	ب) ٣
ج) ٤	د) ٦

(أ)
في الاختبار لا يوجد علامات توازي في الضلعين اللي فوق اللي تحت وكذلك الضلع اللي في النصف لو في علامة توازي في المنتصف الإجابة ٤

٢٩- اوجد قيمة س



أ) ٥٠	ب) ٦٠
ج) ٧٠	د) ٨٠

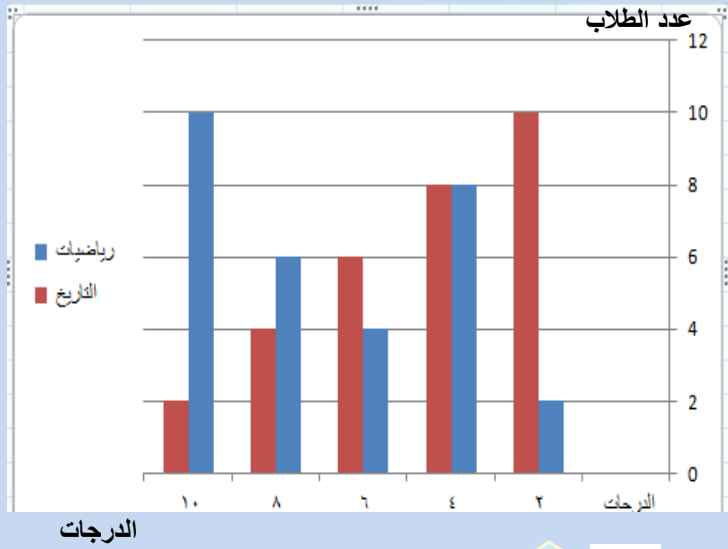
(ج)
المفروض ٥٥ ولكن غير موجودة في الاختيارات وتم تقفيله ٧٠

تقفيلات المنصف كمي (الإصدار الثامن)

٣٠ - سلك قسم الى قسمين متساويين صنع من الاول مستطيل ومن الآخر شبه منحرف قارن بين : مساحة المستطيل	
مساحة شبه المنحرف	أ) القيمة الاولى أكبر
ب) القيمة الثانية أكبر	ج) القيمتان متساويتان
د) المعطيات غير كافية	
(أ) المفروض الحل الصحيح د لكن متقفل أ	

٣١ - باع تاجر سلعة بـ ١٠٠ ريال ثم اشتراها بـ ١٢٠ ريال ثم باعها بـ ١٦٠ ريال قارن بين : ربح التاجر	
٣٠ ريال	أ) القيمة الاولى أكبر
ب) القيمة الثانية أكبر	ج) القيمتان متساويتان
د) المعطيات غير كافية	
(أ) المفروض الحل الصحيح د لكن متقفل أ	

تقفيلات المنصف كمي (الإصدار الثامن)



- ٣٢

الشكل المجاور
يبين درجات ٣٠ طالب
في مادتي
الرياضيات والتاريخ
والدرجة العظمى ١٠
والدرجة الصغرى ٥
فمن الرسم نستنتج:

" نموذج القدرات والمبيدات "

غير متقفل

الارقام هنا مختلفة عن الاختبار

ب (أداء الطلاب افضل في
التاريخ

أ (أداء الطلاب افضل في
الرياضيات

د (أداء الطلاب جيد في
المادتين

ج (أداء الطلاب منخفض في
المادتين

(أ) أعلى درجة ٩٨,٥

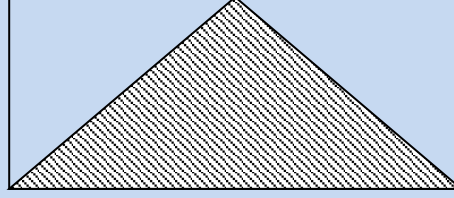
الطالب اللي بيختار ج بينزل النموذج الى ٩٧,١
ومشكلة النموذج في مسألة أخرى غير هذه المسألة
جاري تحديدها ان شاء الله

ملحوظة هامة

وفي سؤال شكله كان في نموذج البصمة والمطاط ومتقفل اداء
الطلاب يتحسن في المادتين

تقفيلات المنصف كمي (الاصدار الثامن)

٣٣- في الشكل ادناه
قارن بين



مساحة المثلث المظل	مجموع مساحتي المثلثين الغير مظللين
أ) القيمة الاولى أكبر	ب) القيمة الثانية أكبر
ج) القيمتان متساويتان	د) المعطيات غير كافية
<p>(ج) رغم انه لم يذكر أي معلومة عن الشكل</p>	

٣٤- انطلقت سيارتان في نفس الوقت الاولى بسرعة ٩٠ كم/س والثانية بسرعة ١٢٠ كم / س بعد كم دقيقة تصبح المسافة بينها ٦٠ كم ؟

أ) ٦٠	أ) ٣٠
ج) ٩٠	ج) ١٢٠
<p>(د) ده السؤال نسا في نموذج الاستثمار والأمطار الكونية وكان متفقل ١٢٠ ولاحظ انه ما قال الثاني تحرك بعد ساعة والاجابة هنا صحيحة "حاليا النموذج غير متفقل"</p>	

تقفيلات المنصف كمي (الاصدار الثامن)

قارن بين : ٣٥-	
العدد الثالث من هذه الاعداد	متوسط ٥ اعداد صحيحة متتالية
ب) القيمة الثانية أكبر	أ) القيمة الاولى أكبر
د) المعطيات غير كافية	جـ) القيمتان متساويتان
<p>(ج) رغم انه ما قال مرتبة</p>	

<p>٣٦- اذا كان $\frac{64}{s} = \frac{4}{s}$ قارن بين :</p>	
س	س
ب) القيمة الثانية أكبر	أ) القيمة الاولى أكبر
د) المعطيات غير كافية	جـ) القيمتان متساويتان
<p>(د) في نموذج أبو حيان والعادة (فقط) نحل ج كترجيح</p>	

تقفيلات المنصف كمي (الإصدار الثامن)



٣٧-
في الشكل المجاور
في أي شهر تمثل
النفقات ثلثي مجموع
مبيعات الأصناف
الثلاثة الأخرى

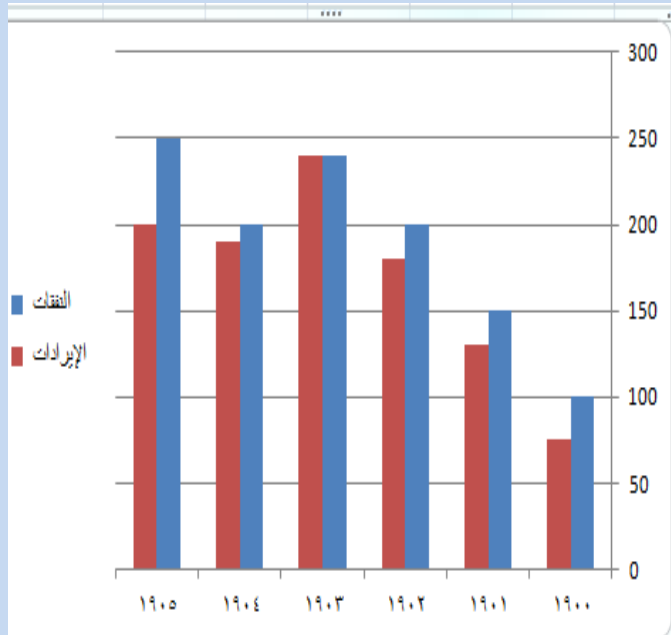
أ (رجب	ب (شعبان
ج) رمضان	د (جماد الاول
(أ)	

٣٨- إذا كان $٤٤ \times ٢٢ = ١٦٦$ قارن بين

"الاس هنا لم يكن واضح في الاختبار ٢ ام ٣ والحمد لله متقفل التعميه والتقويم"

س	$\frac{١}{٢}$
أ (القيمة الأولى أكبر	ب (القيمة الثانية أكبر
ج) القيمتان متساويتان	د (المعطيات غير كافية
(أ)	

تقنيات المنصف كمي (الإصدار الثامن)



٣٩-

اوجد الفرق بين الايرادات
والنفقات في آخر ٣ سنوات

"مشابهة جدا للرسمه في نموذج
الطيور والاكسجين الرخمة
والحمد لله متقفة"

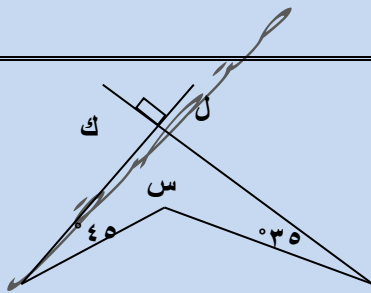
(ب) ٦٠

(أ) ٤٠

(د) ١٣٠

(ج) ١٠٠

(ب)



٤٠- اذا كان ل و ك متعامدين

قارن بين

" بدون علامة الدرجة ومتقفل "

١٩٠

س

(ب) القيمة الثانية أكبر

(أ) القيمة الأولى أكبر

(د) المعطيات غير كافية

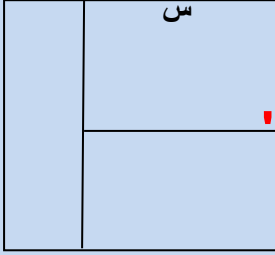
(ج) القيمتان متساويتان

(ج)

ودايما علامة الدرجة للزاوية لانعطيتها أي اهتمام

تقفيلات المنصف كمي (الإصدار الثامن)

٤١ - الشكل المجاور مربع طول ضلعه = ٦ سم



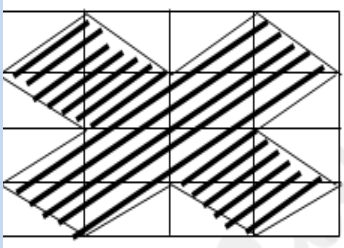
ومقسم لثلاثة مستطيلات متساوية في المساحة

اوجد قيمة س

" دي الصيغة الصحيحة زي الاختبار بالضبط "
" البصمة والمطاط متقفل "

٣ (ب)	٢ (أ)
٥ (د)	٤ (ج)
(ج) والاجابة هنا صحيحة	

٤٢ - اذا المستطيلات متطابقة



ابعادها ٣ سم و ٤ سم

قارن بين

٥/٤ سم	محيط المنطقة المظلمة
ب (القيمة الثانية أكبر)	أ (القيمة الأولى أكبر)
د (المعطيات غير كافية)	ج (القيمتان متساويتان)

(أ)

والاجابة هنا صحيحة

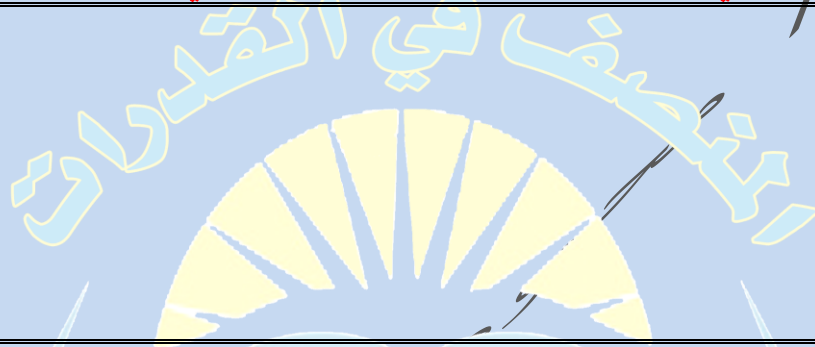
تقفيلات المنصف كمي (الإصدار الثامن)

٤٣ - اشترت سيدة سجادتين سعرهم الأصلي الأولى ٦٠٠ ريال والثانية ٤٠٠ ريال وحصلت على خصم ٥٠٪ على السجادة الثانية فكم إجمالي النسبة المئوية للخصم على السجادتين من السعر الأصلي ؟ " السؤال يبجي كده نصاً مش الصيغة اللي في ال ٨٥ نموذج ومتقفل "

أ (٤٠٪)	ب (٣٠٪)
ج (٢٠٪)	د (١٥٪)

(ج)

والاجابة هنا صحيحة حببت انبه ان كلمة سعرهم الأصلي موجودة في الاختبار عشان مش موجودة في ال ٨٥



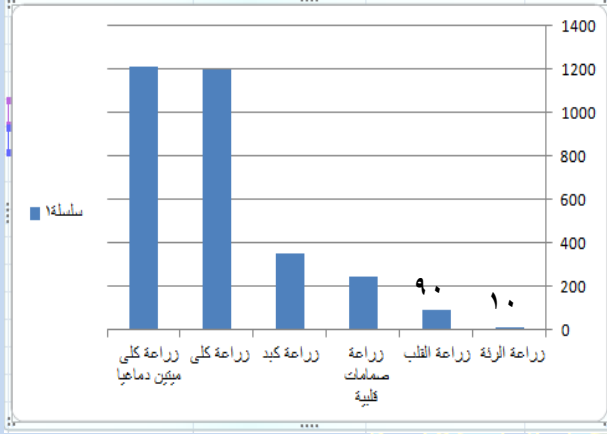
٤٤ - اوجد محيط الشكل المجاور

العلامات مش متحددة على كل الافقي يعني المفروض مش حنعرف نحدد الضلع اللي تحت كم بالضبط وبيجي كده في الاختبار وحنحل على اساس كل ضلع ٢ ومتقفل الحمد لله

أ (٣٠)	ب (٣٢)
ج (٣٨)	د (٤٨)

(ب)

تقفيلات المنصف كمي (الإصدار الثامن)



٤٥ - بالاستعانة بالشكل المجاور
اجب عما يأتي:

أ- ما نسبة زراعة الرئة الى
مجموع زراعات الرئة والقلب؟

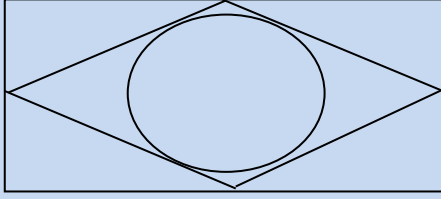
"يجيب الاعداد فوق الاعمدة في الاختبار"
والاختيارين ١٠ و ٥ موجودين في الاختبار
ولانحسب زراعات الصمامات القلبية مع زراعات القلب
"تم تقفيل السؤال"

(أ) ١٠%	(ب) ١٥%
(ج) ٢٠%	(د) ٥%
(أ) هنا الإجابة صحيحة	

٤٦ - اذا كان أ , ب , ج اعداد موجبة , أ = ب , أ + ب + ج = ١٢ قارن بين	
أ	٧
(أ) القيمة الأولى أكبر	(ب) القيمة الثانية أكبر
(ج) القيمتان متساويتان	(د) المعطيات غير كافية
(ب) الصيغة غير اللي في الـ ٨٥ نموذج وبيذكر انها موجبة لان من غير كلمة موجبة الحل د	

تقفيلات المنصف كمي (الإصدار الثامن)

٤٧- قارن بين :



القيمة الثانية : مساحة الدائرة

القيمة الاولى : مساحة المعين

ب (القيمة الثانية أكبر

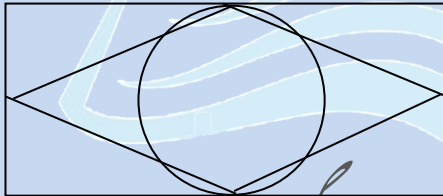
أ (القيمة الاولى أكبر

د (المعطيات غير كافية

ج) القيمتان متساويتان

(أ) هنا الإجابة صحيحة ولا تأتي حالياً

٤٨- إذا كان بعدي المستطيل لا يتعدى ٨ وحدات ورؤوس المعين تتصف اضلاع المستطيل والدائرة تمس المستطيل قارن بين :



"نموذج السرطان والتفكير"

القيمة الثانية : مساحة الدائرة

القيمة الاولى : مساحة المعين

ب (القيمة الثانية أكبر

أ (القيمة الاولى أكبر

د (المعطيات غير كافية

ج) القيمتان متساويتان

المفروض الحل الصحيح د لكن متقفل بالخطأ (أ)

تقنيات المنصف كمي (الإصدار الثامن)

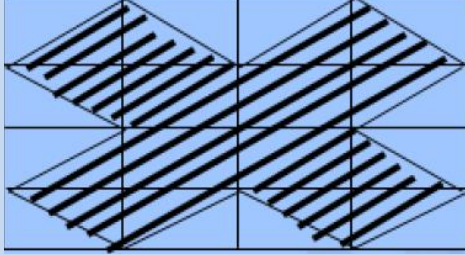
٤٩- في سباق ١٠٠ متر إذا كان محمد قد أنهى السباق وباسم قبل محمد بـ ١٠ متر و هاني قبل باسم بـ ١٠ متر , كم سيتبقى من مسافة لهاني اذا أنهى باسم السباق ؟ " نموذج السرطان والتفكير "	
٩ (أ)	١٠ (ب)
١١ (ج)	١٢ (د)
المفروض الإجابة الصحيحة ١١ لكن متفعل (ب)	

المنصف في القدرات

٥٠- قطع رجل ٢٥٪ من السباق في ٨ دقائق ففي كم دقيقة ينهي السباق؟ " نموذج السرطان والتفكير "	
٢٤ (أ)	٣٢ (ب)
١٦ (ج)	٢٠ (د)
(ب) التفيل على أساس انه طالب الكل	

تقفيلات المنصف كمي (الاصدار الثامن)

٥١- اذا كانت المستطيلات متطابقة



قارن بين

"الزلازل و خداع الغاوين"

١٠٠ سم^٢

مساحة المنطقة المظلمة

(ب) القيمة الثانية أكبر

(أ) القيمة الأولى أكبر

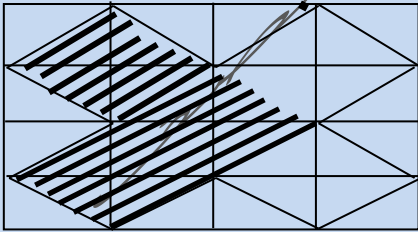
(د) المعطيات غير كافية

(ج) القيمتان متساويتان

(د)

والاجابة هنا صحيحة

٥٢- اذا كانت المستطيلات متطابقة



قارن بين

"المسألة حاليا لا تأتي"

١٥٠ سم^٢

مساحة المنطقة المظلمة

(ب) القيمة الثانية أكبر

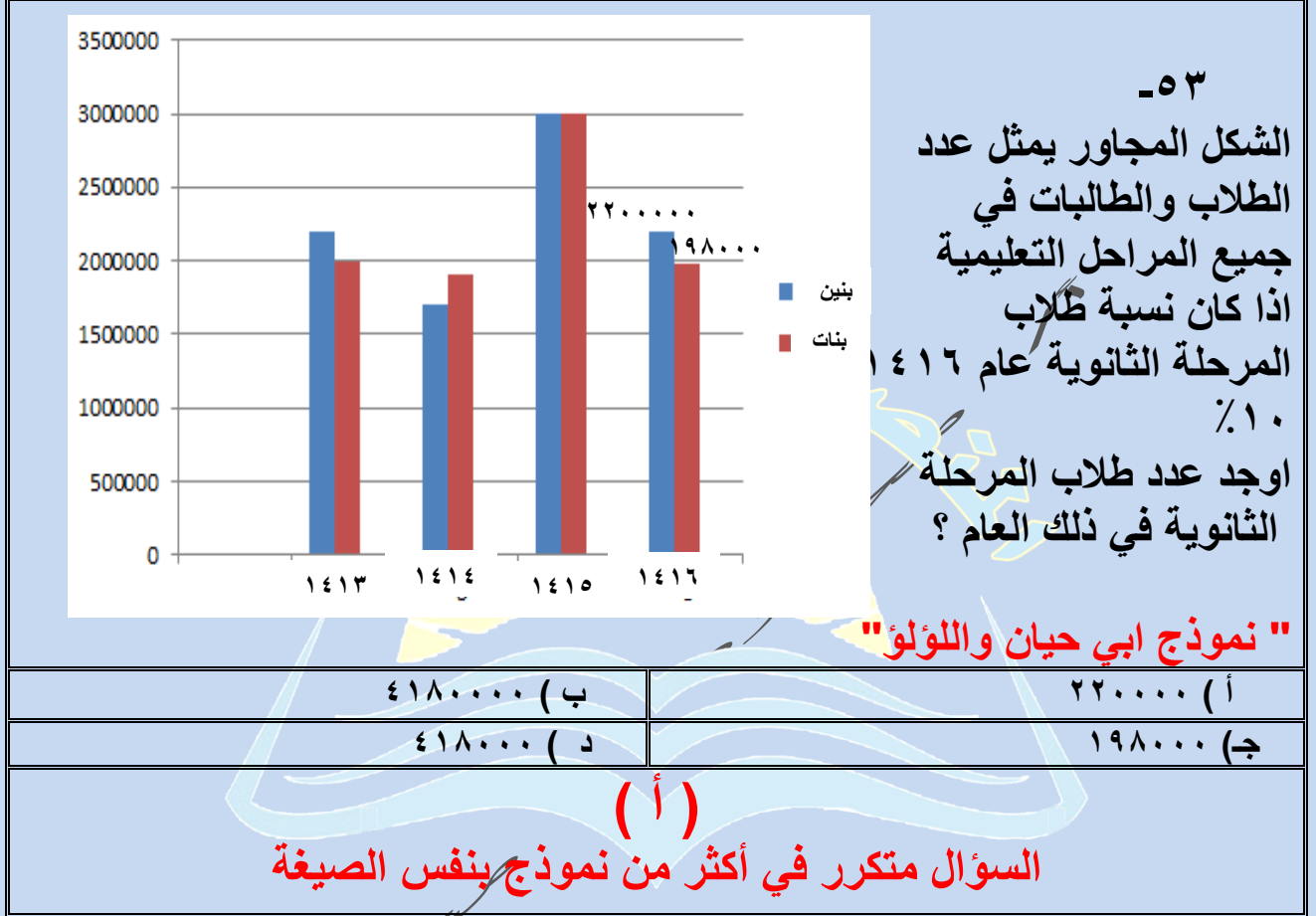
(أ) القيمة الأولى أكبر

(د) المعطيات غير كافية

(ج) القيمتان متساويتان

ترجيح (ب) وليس تقفيل

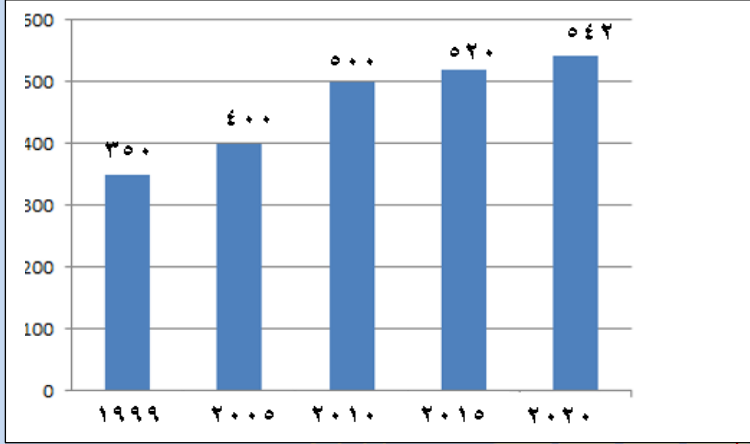
تقديرات المنصف كمي (الإصدار الثامن)



تقفيلات المنصف كمي (الإصدار الثامن)

-٥٤

الشكل المجاور يمثل عدد المصانع في السعودية
أوجد نسبة الزيادة في عدد
المصانع السعودية؟



"نموذج الندوة والقدرات الدماغية
والتمركز والتقرير"

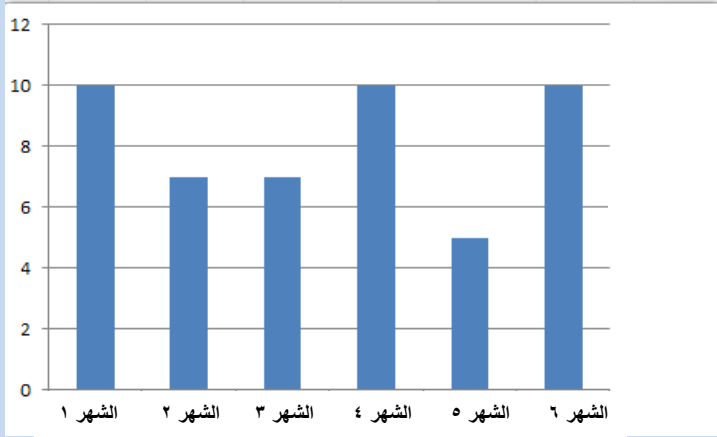
الرسمه والأرقام مختلفة عن الاختبار
والمشكلة لم يحدد الفترة من أي عام لأي عام وتم التقفيل السؤال الحمد لله

أ) ٥٥%	ب) ٤٥%
ج) ٤٠%	د) ٣٥%
(أ)	

سبحان الله الحمد لله لا اله إلا الله الله أكبر

تقفيلات المنصف كمي (الإصدار الثامن)

٥٥-



اوجد متوسط الدرجات تقريبا

" نموذج العادات وتنقية الهواء "

الأرقام مش نفس اللي في الاختبار ولكن تم تقفيل السؤال والحمد لله الطلاب كانوا يجاوبوا نفس الإجابة اللي في نموذج ٨٥ اللي هي ٧,٨

(ب) ٧,٨

(أ) ٦,٨

(د) ٧

(ج) ٨,١

(ج)

وعموما نحسب المتوسط مش في كل النماذج متقفل نفس الحل

٥٦- اشترت امرأة ٣ عطور العطر الثاني = نصف السعر

والعطر الثالث = ربع السعر وكان اجمالي ما دفعته ١٤٠٠

ريال فما قيمة العطر الاول ؟

" نموذج القدرات الدماغية والبنوك "

(ب) ٦٠٠

(أ) ٤٠٠

(د) ٩٠٠

(ج) ٨٠٠

(ج)

سبحان الله الحمد لله لا اله الا الله الله أكبر

تقفيلات المنصف كمي (الإصدار الثامن)

٥٧- اشترت امرأة ٣ عطور العطر الثاني = نصف السعر
والعطر الثالث = ربع السعر وكان السعر ٧٠٠ ريال فما
قيمة العطر الاول ؟

" هنا الإجابة الصحيحة موجودة " نموذج أبي حيان واللؤلؤ "

١٧٥ (ب)	٤٠٠ (أ)
٥٠٠ (د)	٨٠٠ (ج)
(ب)	

٥٨- اشترت امرأة ٣ عطور العطر الثاني = نصف الاول
والعطر الثالث = ثلث الاول وكان اجمالي ما دفعه ١١٠٠ ريال
فما قيمة العطر الاول ؟

" تم تعديل السؤال للصيغة الصحيحة " نموذج التمرکز والغزال "

٦٠٠ (ب)	٤٠٠ (أ)
٥٠٠ (د)	٨٠٠ (ج)
(ب)	

قمت بحذف مسائل البطالة والانفلونزا لانه كان به
انحراف ولم يأتي منذ فترة طويلة والله اعلم بعد الغاء
الانحراف سيظل متقفل بالتقفيلات القديمة ام لا

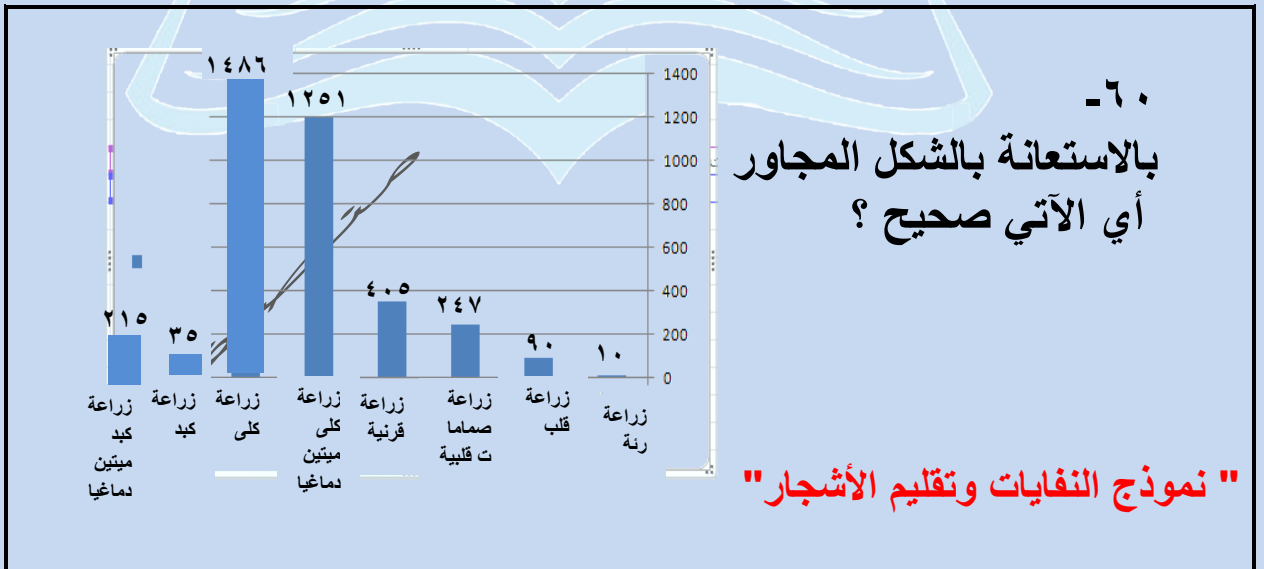
سبحان الله الحمد لله لا اله الا الله الله أكبر

تقفيلات المنصف كمي (الإصدار الثامن)

٥٩- إذا كان s عدد صحيح ،
 $s^3 - s^2 =$ عدد سالب
 قارن بين

صفر	s
ب (القيمة الثانية أكبر	أ (القيمة الأولى أكبر
د (المعطيات غير كافية	ج (القيمتان متساويتان

(ب)
 الصيغة غير اللي في الـ ٨٥ نموذج والحل هنا صحيح
 لكن لو مافيش شرط عدد صحيح حتكون الإجابة د



ب (زراعة القرنية أكبر من الكبد والصمامات القلبية	أ (زراعة القرنية أكبر من زراعة الكبد والقلب والرئة
د (زراعة القرنية أكبر من زراعة الكلى	ج (زراعة القرنية يساوي زراعة الرئة والقلب والصمامات القلبية
(أ)	

تقنيات المنصف كمي (الإصدار الثامن)

٦١- يسافر خالد من الدمام للرياض بسرعة ١١٠ كم/س ورجع بسرعة ٩٠ كم/س ، احسب معدل السرعة لـ خالد

" مافيش ٩٩ في الاختيارات "

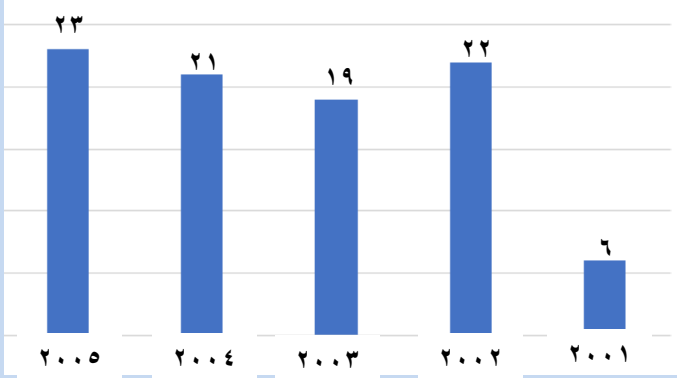
" نموذج فصول السنة و الزيت "

٩٥ (ب)	١٠٠ (أ)
٥٠٠ (د)	١٠٥ (ج)
(أ)	

المنصف في القدرات

٦٢-	
" نموذج النفايات تقليم الأشجار "	
القيمة الثانية : مساحة المظل	القيمة الاولى : سم ^٢
(ب) القيمة الثانية أكبر	(أ) القيمة الاولى أكبر
(د) المعطيات غير كافية	(ج) القيمتان متساويتان
(ب) والاجابة صحيحة	

تقديلات المنصف كمي (الإصدار الثامن)



٦٤- بالاستعانة بالشكل المجاور أكبر نسبة زيادة بين عامين متتالين؟

" نموذج التعليم عن بعد والهدية "

أ) ١٠٠%	ب) ٢٠٠%
ج) ٣٠٠%	د) ٤٠٠%
(ج)	

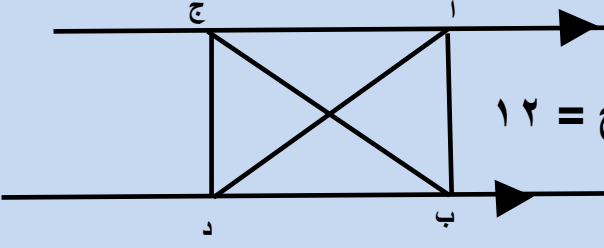
٦٣- شخص لديه ٩٣ ريال من بعض الفئات الآتية ١ ريال ، ٥ ريال ، ١٠ ريال ، ٢٠ ريال ، فما أقل عدد من الأوراق معه؟
" نموذج الفيلة والكوارث "

أ) ٨	ب) ٦
ج) ١٥	د) ١٢

(أ)
الحل هنا صحيح و المسألة مختلفة عن المسألة الي في تجميعات الورقي

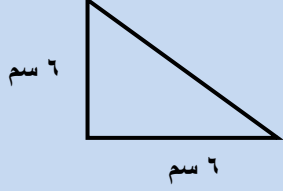
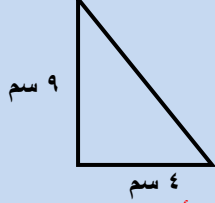
سبحان الله الحمد لله لا اله إلا الله الله أكبر

تقفيلات المنصف كمي (الإصدار الثامن)

<p>٦٥- قارن بين : </p> <p>إذا كان مساحة Δ أ ب ج = ١٢</p>	
القيمة الأولى :	القيمة الثانية :
مساحة Δ أ ب ج	مساحة Δ د ب ج
أ) القيمة الأولى أكبر	ب) القيمة الثانية أكبر
ج) القيمتان متساويتان	د) المعطيات غير كافية
<p>الإجابة الصحيحة د لكن متقفل (ج)</p>	

<p>٦٦- إذا سافر فهد الساعة ٣:٤٥ ووصل الساعة ٤:٠٠ بعد منتصف الليل وسافر سعد الساعة ٤:٣٠ ووصل الساعة ٩:١٥</p> <p>قارن بين لاحظ لم يذكر صباحا ولا مساء وبعض الطلاب ذكروا ان صباحا ومساء مذكورة في الحالتين نحل أ " نموذج الكهوف ومراتب الفهم "</p>	
القيمة الأولى :	القيمة الثانية :
زمن فهد	زمن سعد
أ) القيمة الأولى أكبر	ب) القيمة الثانية أكبر
ج) القيمتان متساويتان	د) المعطيات غير كافية
<p>(أ)</p>	

تقديرات المنصف كمي (الإصدار الثامن)

<p>٦٧- قارن بين</p> <div style="display: flex; justify-content: space-around;"> <div style="text-align: center;">  <p>٦ سم ٦ سم</p> </div> <div style="text-align: center;">  <p>٩ سم ٤ سم</p> </div> </div> <p style="text-align: center; color: red;">" نموذج أبو حيان والاحصاء "</p>	
<p>القيمة الثانية :</p> <p>مساحة Δ الثاني</p>	<p>القيمة الأولى :</p> <p>مساحة Δ الاول</p>
<p>(ب) القيمة الثانية أكبر</p>	<p>(أ) القيمة الأولى أكبر</p>
<p>(د) المعطيات غير كافية</p>	<p>(ج) القيمتان متساويتان</p>
<p style="color: red;">اختلف المختبرون هل في زاوية قائمة ام لا الإجابة الصحيحة (د) اذا لم توجد زوايا قائمة و (ج) اذا كان هناك زوايا قائمة السؤال لا يأتي حاليا</p>	

<p>٦٨- اذا كان $s + \frac{1}{s} = \frac{s^2 + 1}{s}$ فإن قيم s ؟</p>	
<p>(أ) ١</p>	<p>(ب) -١</p>
<p>(ج) ١ ، -١</p>	<p>(د) جميع القيم ما عدا الصفر</p>
<p style="color: red;">(د)</p>	

سبحان الله الحمد لله لا اله الا الله الله أكبر

تقفيلات المنصف كمي (الإصدار الثامن)

-٦٩

" نموذج الرياح والمكتبات "

أ- أي المعاهد تعد مثيلاتها في المبيعات ؟

المجموع الكلي	المبيعات	التوحد	الفكرية	الامل	النور	
	١٢	١٢	٢٢٤	١١٤	٦	المعاهد
						الفصول
					٢٤٠	عدد الطلاب
					١٨٠	عدد الطالبات
						مجموع المعلمين والمعلمات
						مجموع اداريين واداريات
						اداريات

ب (الامل	أ (النور
د (الفكرية	ج (التوحد
(ج)	

٧٠- اذا كان س عدد موجب ، $s > \frac{1}{s}$ فإن س

" نموذج النفايات وتقليم الاشجار "

ب (س - ١	أ (س > ١
د (١ > س > صفر	ج (س < ١ أو ١ < - ١
(د)	
العلامات في د مقلوبة وبتيجي كده	

تقفيلات المنصف كمي (الإصدار الثامن)

٧١- إذا كان s عدد موجب ، $s > \frac{1}{s}$ فإن s " نموذج أبو الأسود الدولي "

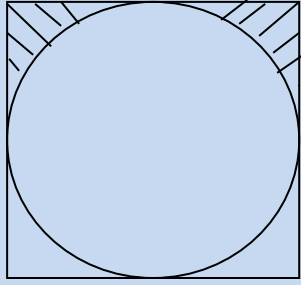
(أ) $s > 1$	(ب) $s < 1$
(ج) $s > 1$ أو $s < 1$	(د) $1 > s > 0$ صفر
(د) لاحظ ان الاختيار د العلامات معكوسة أيضا	

٧٢- من الطالب الذي معدل درجاته في الاختبارين أكبر من معدل باقي الطلاب بـ ٢٠ ؟

(أ) أحمد	(ب) جمال
(ج) هشام	(د) داوود
(د) السؤال اجابته صحيحة	

" نموذج أبو الأسود الدولي "

تقنيات المنصف كمي (الإصدار الثامن)



٧٣- اوجد مساحة الجزء المظل

١٠ سم

" ما فيش ١٠,٧٥ في الاختيارات نموذج التمركز والغزال"

أ (١٠,٥	ب (٢١,٥
ج (١٠	د (٣٠

(أ)

و نفس المسألة بتيجي في نماذج أخرى وفيها ١٠,٧٥ وطبعا بنختارها

٧٤- اذا كان ارتفاع اسطوانة ٤ و اصبح ٨ فكم مرة تضاعف حجمها ؟

"نموذج العادات والخدم"

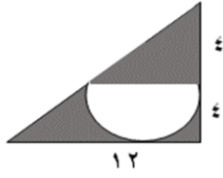
أ (مرتين	ب (٤ مرات
ج (٦ مرات	د (٨ مرات

(أ)

سبحان الله الحمد لله لا اله إلا الله الله أكبر

تقنيات المنصف كمي (الإصدار الثامن)

-٧٥



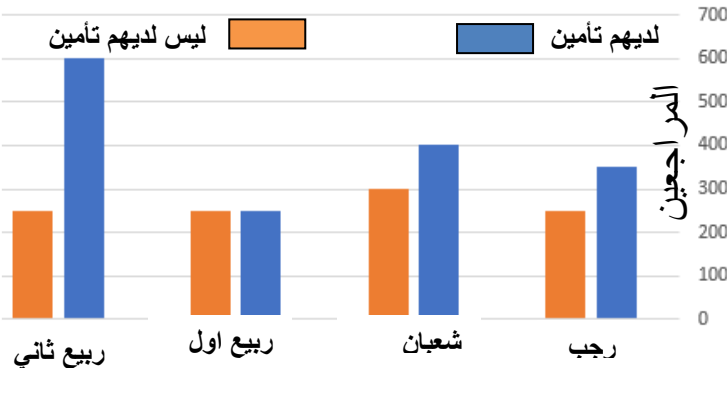
في الشكل المجاور اوجد مساحة الجزء المظلل

"الاكيد بيجي تحت ١٢ مش ١٦"
" نموذج التجارة الالكترونية ٢ غير متقفل "

(أ) $٨(٦ - ط)$	(ب) $٨(٦ - ط٢)$
(ج) $٨(١٢ - ط٢)$	(د) $٨(١٢ - ط)$

(أ) اعلى درجة
ودي الإجابة الاكيدة المعتمدة عند قياس ومشكلة النموذج في
سؤال آخر

-٧٦



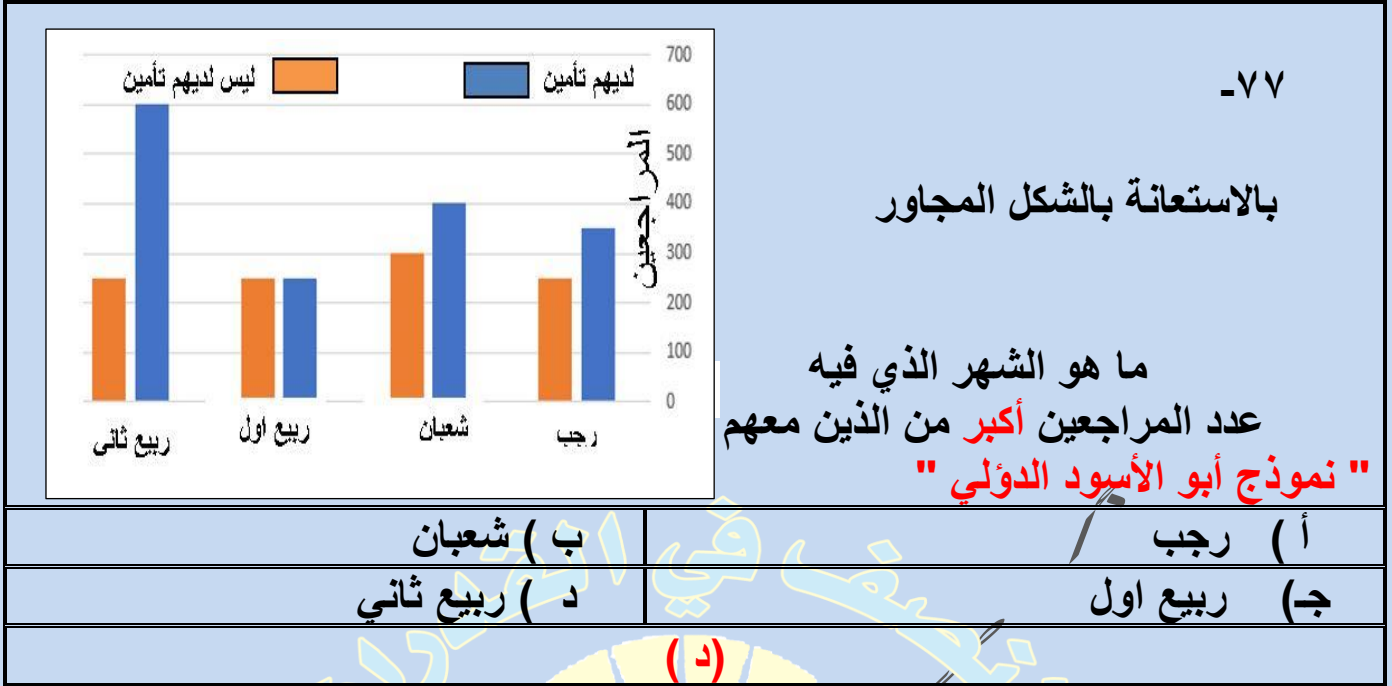
بالاستعانة بالشكل المجاور

ما هو الشهر الذي فيه
عدد المراجعين أقل من الذين معهم تأمين؟
" نموذج الربو والخوف "

(أ) رجب	(ب) شعبان
(ج) ربيع اول	(د) ربيع ثاني

(ج)

تقفيلات المنصف كمي (الإصدار الثامن)



٧٨-

"نموذج التواصل والسمع"

$$\frac{1}{10000} \times 3 + \frac{1}{100} \times 7 \times 100 \times 9 + 10 \times 5$$

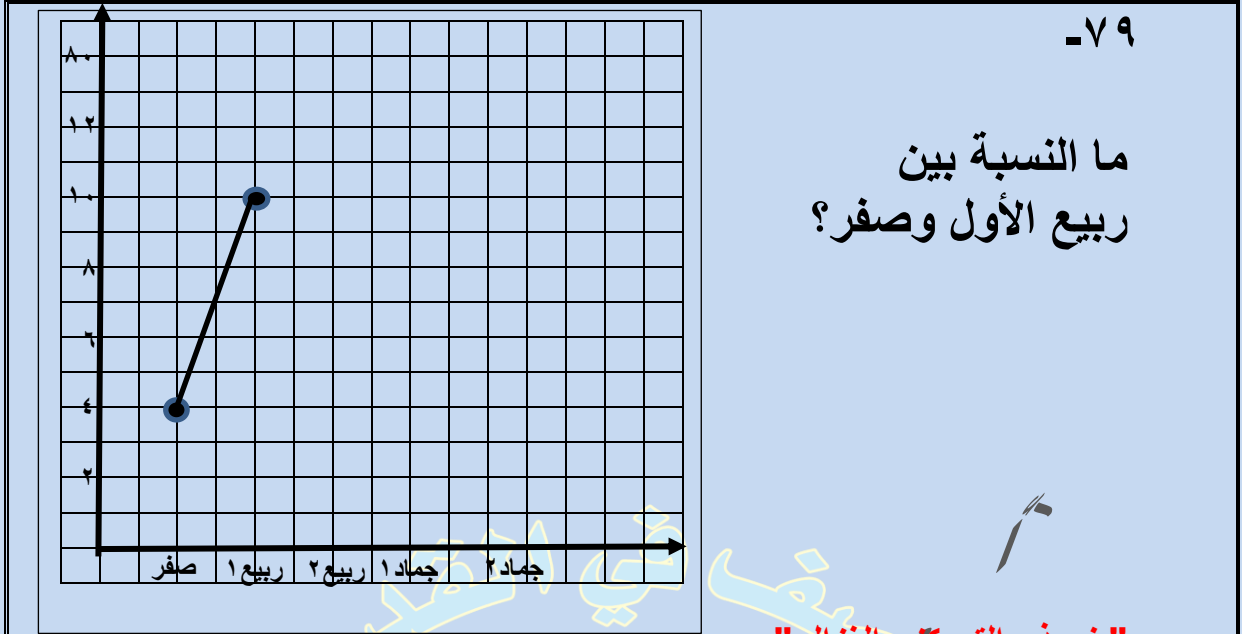
أ) ٩٠٥,٧٠٣	ب) ٩٠٥,٠٧٠٣
ج) ٩٥٠,٧٠٣	د) ٩٥٠,٠٧٠٣

(د)

المفروض مكان علامة الضرب الحمراء يكون جمع وبيجي زي ماهو مكتوب

سبحان الله الحمد لله لا اله الا الله الله أكبر

تقنيات المنصف كمي (الإصدار الثامن)



"نموذج التمركة والغزال"

(أ) ٢٥٠%	(ب) ١٥٠%
(ج) ٢٠٠%	(د) ٣٠٠%
(ب)	
المفروض الإجابة الصحيحة أ لكنه متقل ب	

-٨٠ "نموذج الطنبوري الجديد"

قارن بين

القيمة الاولى : ٥٠	القيمة الثانية : س
(أ) القيمة الاولى أكبر	(ب) القيمة الثانية أكبر
(ج) القيمتان متساويتان	(د) المعطيات غير كافية
(ب)	
"ارقام مشابهة للاختبار" المهم ان ٢٠° في الاختبار ماكننتشي واضحة هل كانت ٢٠° ام ٣٠° حتى مع تكبير الشاشة واتقل على أساس ٢٠°	

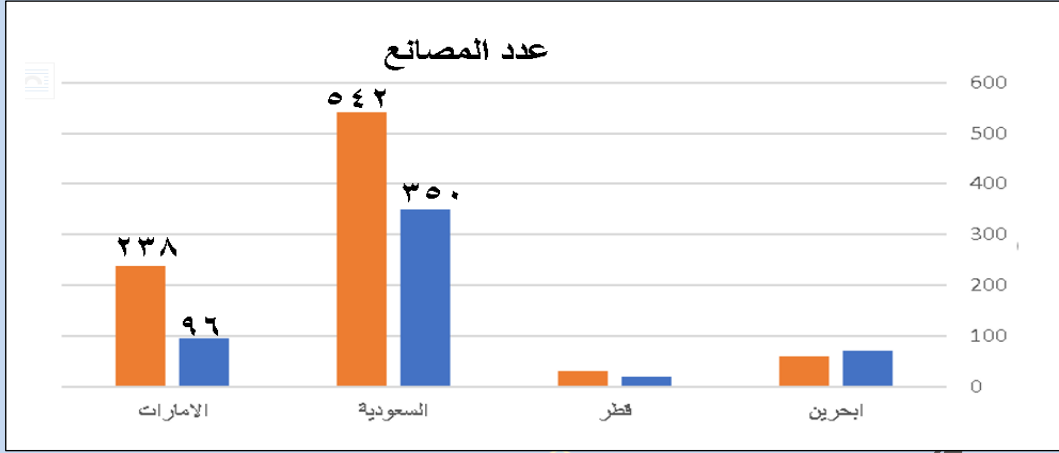
تقديرات المنصف كمي (الإصدار الثامن)

٨١- إذا كان ٢٥٪ من س أقل من ٥٠ فكل القيم الآتية يمكن أن تساوي س ما عدا "نموذج البصمة والنجاح"	
٢٨٠ (ب)	١٨٠ (أ)
٤٨٠ (د)	٣٨٠ (ج)
(أ) بعض المختبرون قال في كلمة أقل والبعض قال أكثر وفي أي من الحالتين متقفل أ	



تقديرات المنصف كمي (الإصدار الثامن)

-٨٢



"نموذج العادات والخدم"

١. ما أكبر دولة من حيث عدد المصانع؟

ب) قطر

أ) البحرين

د) الإمارات

ج) السعودية

(ج)

٢. ما نسبة الزيادة في عدد المصانع السعودية؟

ب) ٦٥%

أ) ٥٥%

د) ٨٥%

ج) ٧٥%

(أ)

٣. ما الدولة التي لها أكبر نسبة زيادة في عدد المصانع؟

ب) قطر

أ) البحرين

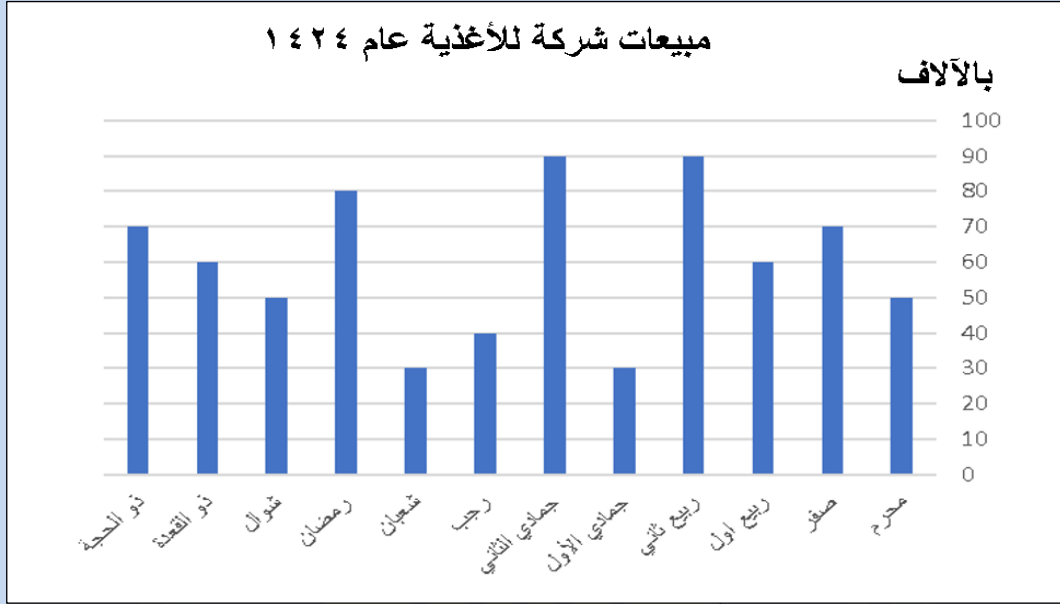
د) الإمارات

ج) السعودية

(د)

تقديرات المنصف كمي (الإصدار الثامن)

- ٨٣



"نموذج العادات والخدم"

١. إذا كان إجمالي مبيعات الشركة عام ١٤٢٤ = ٧٢٠٠٠٠ ريال قارن بين:

القيمة الثانية: مبيعات الشركة عام ١٤٢٤	القيمة الأولى: رواتب منسوبي الشركة
(ب) القيمة الثانية أكبر	(أ) القيمة الأولى أكبر
(د) المعطيات غير كافية	(ج) القيمتان متساويتان
(د)	

٢. قارن بين:

القيمة الثانية: $\frac{33}{3}\%$	القيمة الأولى: نسبة الزيادة في رمضان عن ربيع الأول
(ب) القيمة الثانية أكبر	(أ) القيمة الأولى أكبر
(د) المعطيات غير كافية	(ج) القيمتان متساويتان
(ج)	

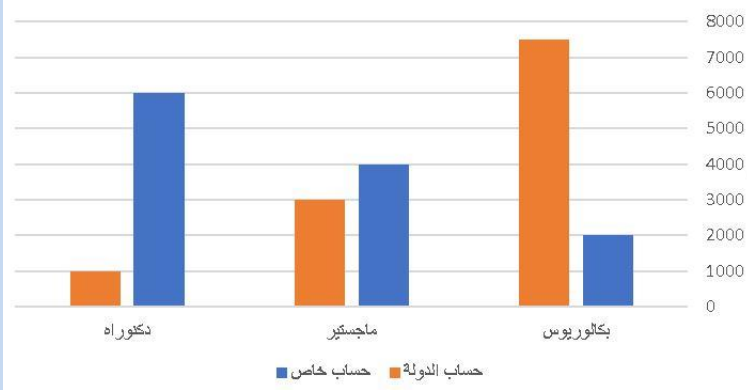
تقفيلات المنصف كمي (الإصدار الثامن)

٨٤- قطع رجل ٢٥٪ من السباق في ٨ دقائق فكم يلزمه لإكماله؟ " نموذج المهن والتهاب اللوزيتين "	
أ) ٢٤	ب) ٣٢
ج) ١٦	د) ٢٠
(ب) التقفييل على أساس انه طالب الكل	

٨٥- عرض في محل عند شراء ٤ كيلو توفر ريالين فإذا اشترى محمد ١٧ كيلو فكم يوفر محمد؟ " نموذج التواصل وحاجات الانسان "	
أ) ٨	ب) ٨,٥
ج) ٧	د) ٩
(ب) الحل الصحيح أ والتقفييل ب على أساس تناسب طردي عادي	

سبحان الله الحمد لله لا اله إلا الله الله أكبر

تقديرات المنصف كمي (الإصدار الثامن)



-٨٦

الشكل المجاور يوضح
اعداد الأشخاص الذين يدرسون
البكالوريوس والماجستير والدكتوراه

ما نسبة الذين يدرسون البكالوريوس على حسابهم الخاص الى حساب الدولة ؟

" نموذج الكسوف والخسوف والاكسجين وتلوث البيئة "

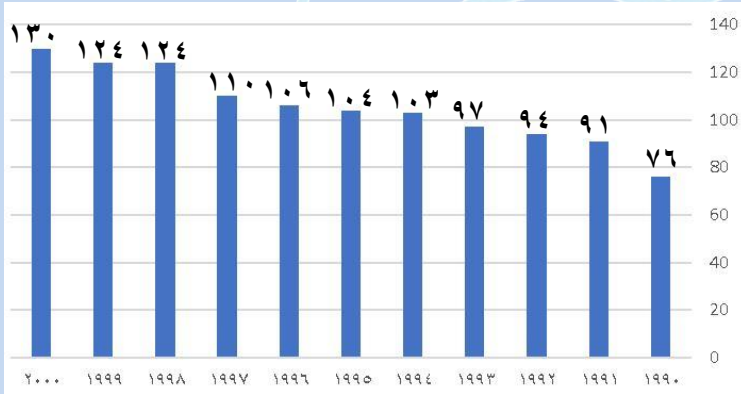
(ب) $\frac{2}{9}$

(أ) $\frac{1}{9}$

(د) $\frac{2}{7}$

(ج) $\frac{1}{7}$

(د)



-٨٧

في الشكل المجاور
اوجد السنوات التي ازدادت من
عام ١٩٩٠ الى عام ٢٠٠٠

" نموذج التعمية والتقويم ونماذج أخرى "

(ب) ٦٠

(أ) ٦٣

(د) ٥٤

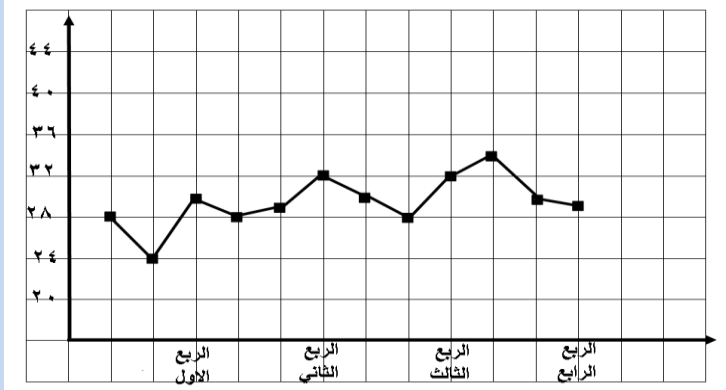
(ج) ٥٠

(د)

صيغة السؤال من اكثر من طالب وغير واضحة والتفصيل على أساس الفرق بين ١٩٩٠ و ٢٠٠٠ ببساطة

تقنيات المنصف كمي (الإصدار الثامن)

-٨٨



الشكل المجاور يوضح
انتاج شركة عام ٢٠١٠
اوجد متوسط الإنتاج في النصف
الأول من العام

" نموذج التعليم عن بعد والجمعة "

ب) ٣٠,٥

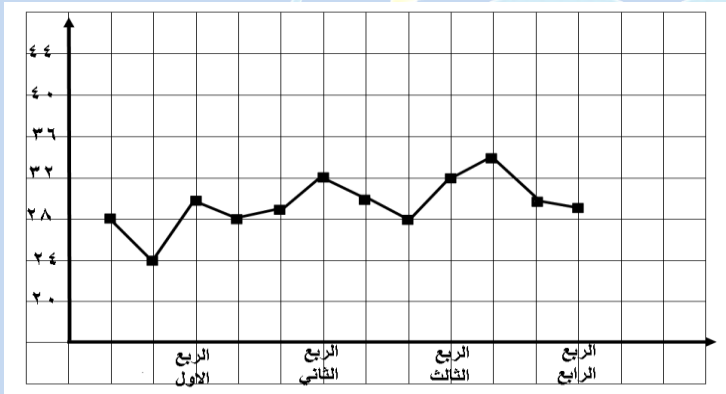
أ) ٢٨,٥

د) ٢٩,٥

ج) ٣١

(أ)

-٨٩



الشكل المجاور يوضح
انتاج شركة عام ٢٠١٠
اوجد متوسط الإنتاج في النصف
الثاني من العام

" نموذج التمرکز والتعمية "

ب) ٣٥

أ) ٣٤

د) ٢٩

ج) ٣١

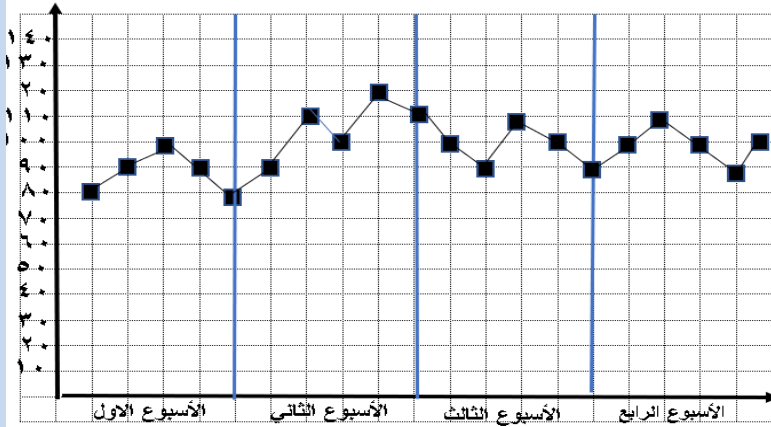
(ج)

تقنيات المنصف كمي (الإصدار الثامن)

٩٠-

بالاستعانة بالشكل المجاور

ما هو متوسط الأسبوع الثاني
" نموذج التقرير ونعمة البصر "



ب) ٩٨

أ) ١٠٠

د) لا يتذكره المختبرين

ج) ٨٥

(أ)

٩١- أربعة اعداد صحيحة موجبة متتالية
قارن بين :

القيمة الثانية :
الثاني + الرابع

القيمة الاولى :
الأول + الثالث

ب) القيمة الثانية أكبر

أ) القيمة الاولى أكبر

د) المعطيات غير كافية

ج) القيمتان متساويتان

(ب)

ما قال هنا مرتبة تصاعديا ونتعامل مع كلمة متتالية انها مرتبة تصاعديا

تقديرات المنصف كمي (الإصدار الثامن)

-٩٢

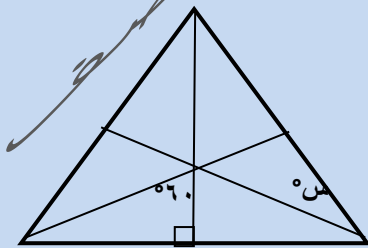


أي الآتي غير صحيح

" نموذج العادات والأوبئة "

أ) من شهر محرم الى ربيع الثاني في تزايد مستمر	ب) من شهر ربيع الثاني الى شعبان في تناقص مستمر
ج) لا يمكن المقارنة بين أي شهرين	د) لا يمكن أن يتساوى شهرين
(د)	

-٩٣



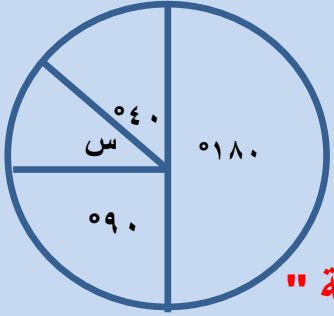
اوجد قيمة س

" نموذج الربو والخوف "

أ) ٦٠	ب) ٩٠
ج) ٣٠	د) ٤٥
(ج)	

تقديرات المنصف كمي (الإصدار الثامن)

٩٤ -
إذا كان عدد الطلاب ٥٠٠
أوجد قيمة س



" نموذج الكسوف والخسوف وتلوث البيئة "

٥٠ (ب)	٤٠ (أ)
٧٠ (د)	٦٠ (ج)

(ب)
السؤال متكرر بنفس الصيغة في أكثر من نموذج

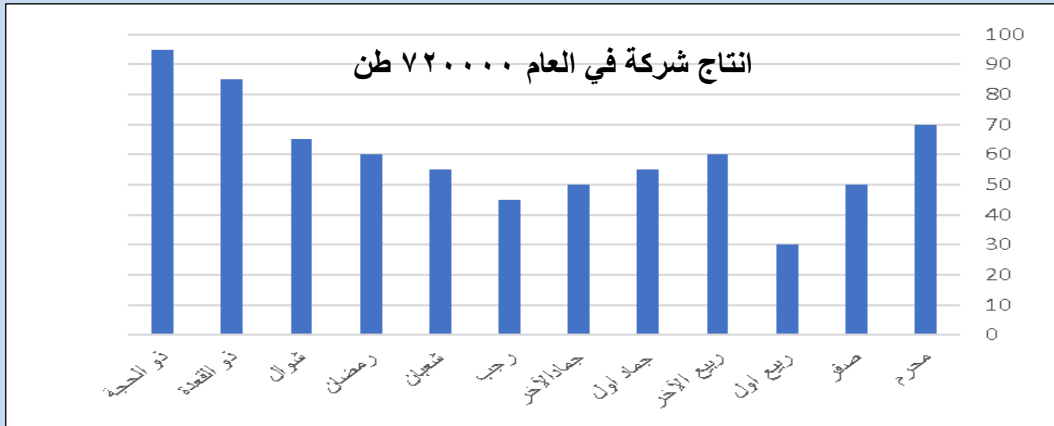
٩٥ - إذا كان س = ٩-٤
قارن بين :

القيمة الثانية : $\frac{1}{9}$	القيمة الاولى : س
ب (القيمة الثانية أكبر)	أ (القيمة الاولى أكبر)
د (المعطيات غير كافية)	ج (القيمتان متساويتان)

المفروض د لكن متفقل (ج)

تقنيات المنصف كمي (الإصدار الثامن)

-٩٦



"نموذج الظهور والاكسجين ١ والعادات والابونة"

١. ما نسبة مجموع شهري ذو القعدة وذو الحجة بالنسبة لمجموع الانتاج في جميع الأشهر؟

(ب) ٢

١٠

(د) ٢

١٢

(أ) ٢

٨

(ج) ٢

٩

(أ)

٢. ما متوسط الانتاج من شهر جماد الأول الى رمضان؟

(ب) ٥٨

(أ) ٥٦

(د) ٥٣

(ج) ٥٤

(د)

٣. أي الأشهر التالية الأكثر ثباتا

(ب) من جمادى الآخر الى رمضان

(أ) من جمادى الأول الى شعبان

(د) من رمضان الى ذو الحجة

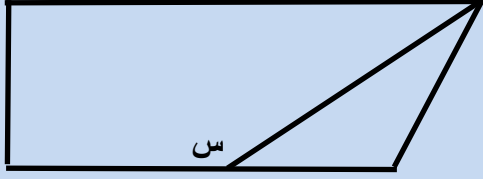
(ج) من الى ربيع الآخر الى ربيع الآخر

(أ)

تحل هنا حسب الرسمة في الاختبار

تقفيلات المنصف كمي (الإصدار الثامن)

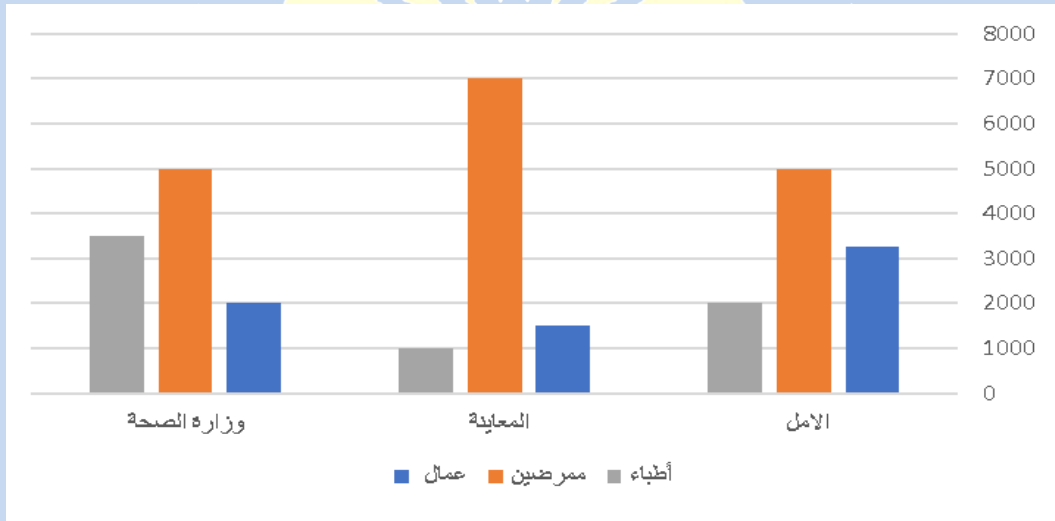
٩٧-



قارن بين :
" نموذج الكتاتيب والطفل "

القيمة الثانية : ١٤٠	القيمة الاولى : س
ب (القيمة الثانية أكبر	أ (القيمة الاولى أكبر
د (المعطيات غير كافية	ج (القيمتان متساويتان
(د) تقفيل صحيح	

٩٨-



ما الفرق بين عدد العمال في مستشفى الأمل ومستشفى
المعاينة تقريبا ؟

" الرسمة مشابهة "

" التمرکز والازياء "

١٨٠٠ (ب)	١٢٠٠ (أ)
٢٠٠٠ (د)	١٩٠٠ (ج)
(ب)	

تقديرات المنصف كمي (الإصدار الثامن)

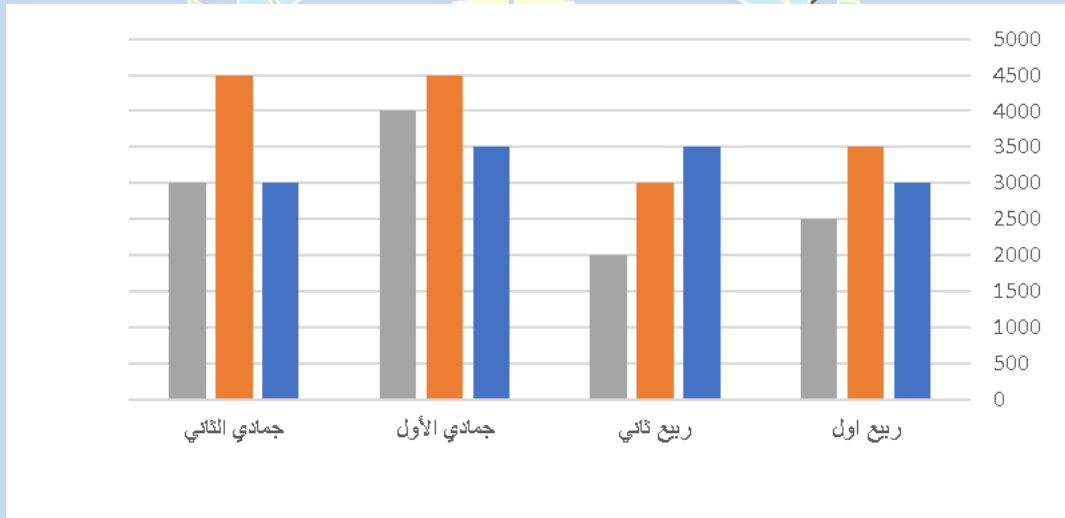
٩٩- اوجد الحد التالي في المتتابعة
١ ، ٢ ، ٣ ، ٦ ، ١٠ ، ١٥ ،

" نموذج الصفدي "

١٧ (أ)	٢١ (ب)
٢٣ (ج)	٢٦ (د)

(ب)
السؤال متكرر في القسم الأول والقسم الرابع

١٠٠-



ما الشهر الأكثر ارتفاعا؟
" الطيور والاكسجين ٢ "

" الرسمة مشابهة "

١٧ (أ)	٢١ (ب) ربيع الثاني
٢٣ (ج)	٢٦ (د) جمادي الثاني

(ج)

تم بحمد الله.....

تقفيلات المنصف كمي (الإصدار الثامن)

- بشكر د. عبد الرحمن أحمد صلاح
" طب القاهرة " وأحد طلابي الحاصلين على
١٠٠٪ على التصميم الجميل
- بشكر كل طلابي هم أصحاب التقفيلات دي
الحقيقيين

وفي الختام،،

ان شاء الله لو في أي جديد حنزل اصدار جديد من هذه التقفيلات
قمنا بتجميع تقفيلات الكمي نظرا لأهميتها و ليسهل عليكم
استرجاعها

لا نتمنى لكم سوى الـ ١٠٠٪ بإذن الله
و هذا من توفيق الله وحده وما كان من خطأ فمني و من الشيطان

ولا تنسونا

**الدعاء لوالدي بالرحمة
وأن يجمعني به في**

الجنة ♥

وصل اللهم على سيدنا محمد وعلى آله
وصحبه وسلم.